




# Recetas para disfrutar en familia



**YO COCINO EN CASA**



# Croissant

**Profesorado:** Equipo PFTVA

**Imágenes /ilustraciones:**

#Soyvisual. Fundación Orange. Licencia: CC (BY-NC-SA) —  
[www.soyvisual..org](http://www.soyvisual..org)

pictogramas: Sergio Palao. Procedencia: ARASAAC  
(<http://catedu.es/arasaac/>) Licencia: CC (BY-NC-AS).




# postre



# Croissant



# EL HORNO



Encender el horno

220°



Calor arriba y abajo





# CROISSANT



**INGREDIENTES:**

 ----- -----	 -----	 -----	 -----
---	--	---	--



**UTILES**

 -----	 -----	 -----	 -----	 -----	 -----
---	--	--	---	--	---




# 1



Extender la masa de hojaldre, batir un huevo,

dividir la masa en triángulos

# 2



Realizamos un pequeño corte en la base del triángulo, colocamos una onza de chocolate y enrollamos los cuernos hacia el exterior

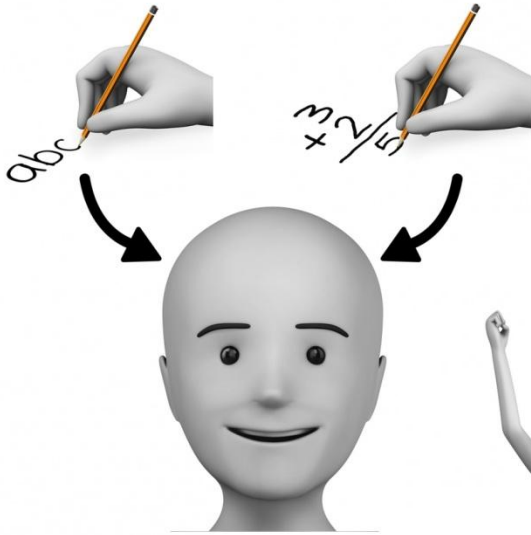
# 3



Pintamos el croissant con huevo, al horno


15 minutos ,

los dejamos enfriar en una rejilla



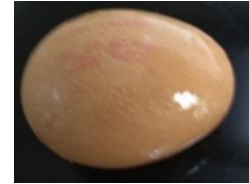
# APRENDO Y ME DIVIERTO COCINANDO

## PALABRAS: Croissant



Une cada palabra con su foto

HOJALDRE



HUEVO



CHOCOLATE




PAPEL VEGETAL



AZUCAR GLASS



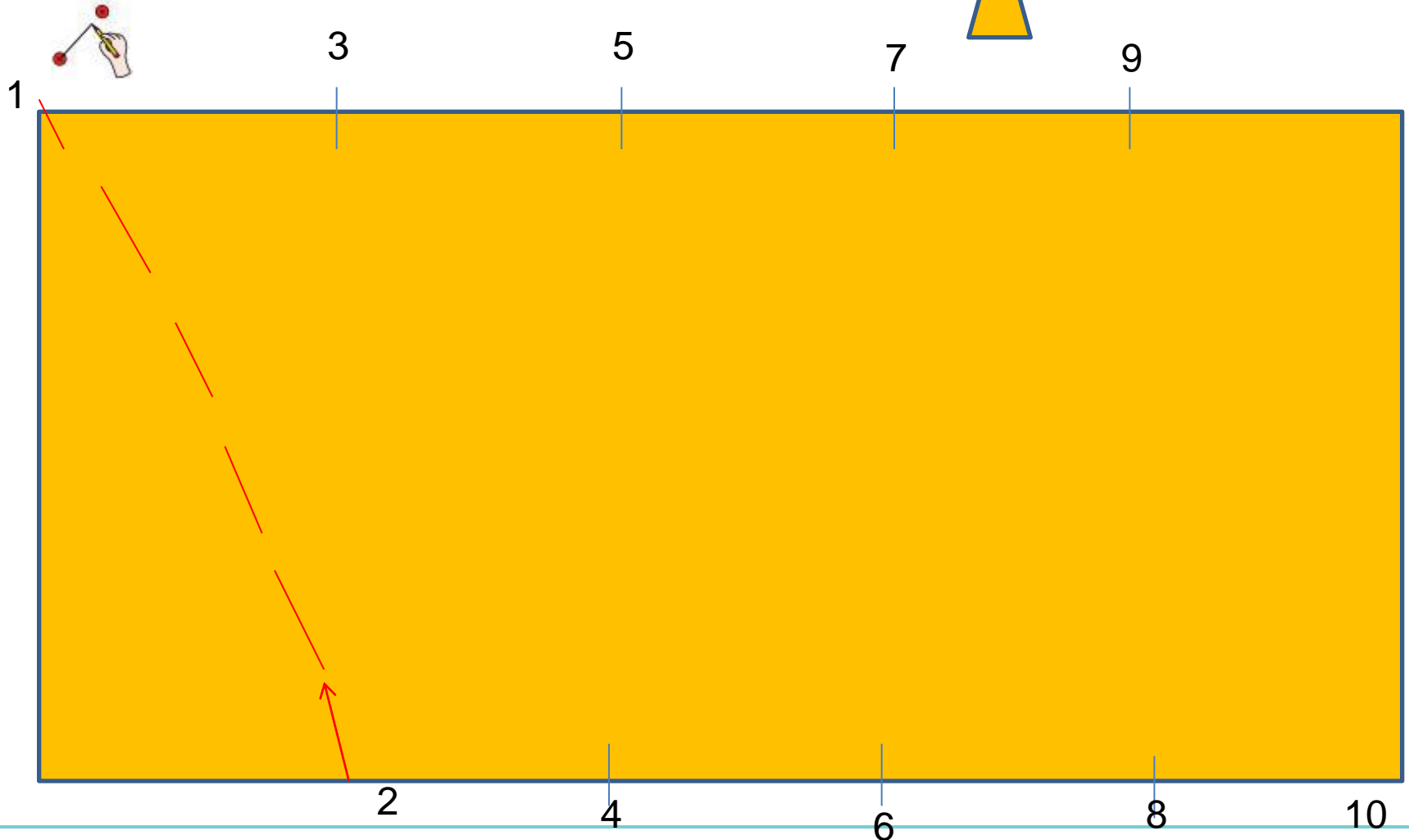


# MATEMÁTICAS



Une los punto

¿Cuántos triángulos salen?





Dibuja una onza de chocolate para cada triángulo



¿Cuántas onzas de chocolate necesitas en total?






1

....

....

....

....

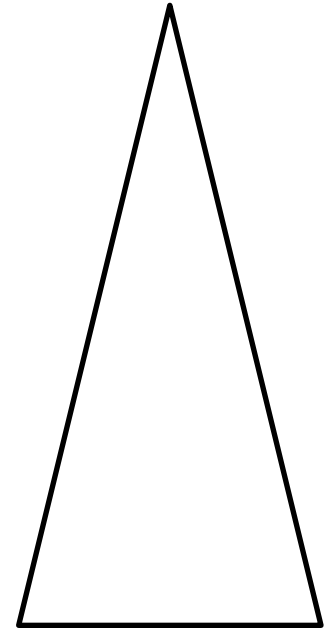
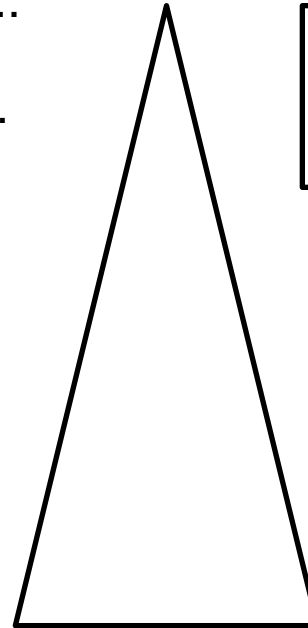
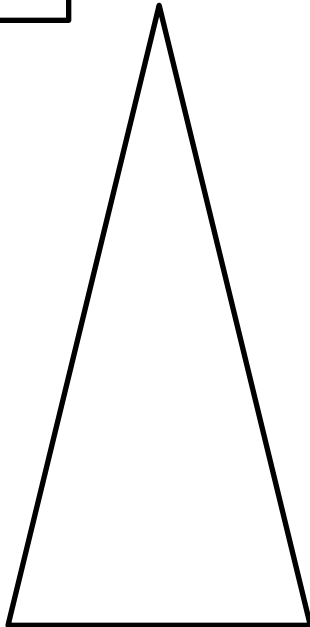
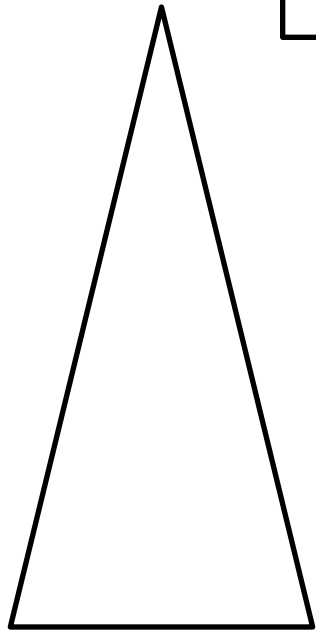





Pinta el triángulo de color amarillo  y el rectángulo de color marrón 

¿Cuántos lados tiene un triángulo?.....

¿Cuántos lados tiene un rectángulo?.....





# PROBLEMAS



¿Cuánto pagaremos por la compra del hojaldre y la tableta de chocolate?



$$\begin{array}{r}
 \dots\dots\dots \\
 + \\
 \hline
 \dots\dots\dots \\
 \dots\dots\dots
 \end{array}$$

Rodea la cantidad total de dinero que necesitas para pagar






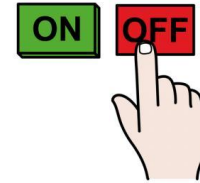
# EL TIEMPO



Yo he metido los croissant en el horno a las 5 y lo que sacado a las 5.15




**5:00**



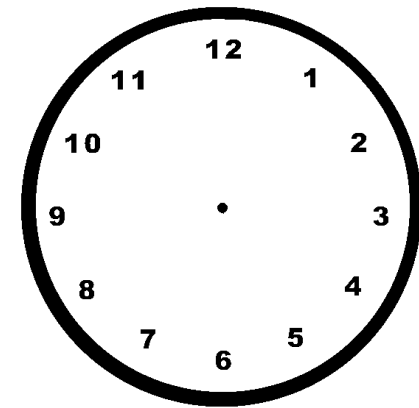

**5:15**




¿A qué hora debo a pagar el horno si puse el croissant a las 6?



**6:00**



# EL HORNO



Señala con una flecha los mandos del horno



Encender el horno

220°

Calor arriba y abajo





Hermanas  
Hospitalarias

FUNDACIÓN PURÍSIMA CONCEPCIÓN